

Till eleven - Information inför den muntliga provdelen

Du kommer att få en uppgift som du ska lösa skriftligt och sedan ska du presentera din lösning muntligt. Om du behöver får du ta hjälp av dina klasskamrater och din lärare när du löser uppgiften. Din muntliga redovisning börjar med att du presenterar vad uppgiften handlar om och sedan får du beskriva och förklara din lösning. Du ska redovisa alla steg i din lösning. Däremot, om du har gjort samma beräkning flera gånger (till exempel i en värdetabell) så kan det räcka med att du redovisar några av beräkningarna. Din redovisning är tänkt att ta maximalt 5 minuter och ska göras för en mindre grupp klasskamrater och lärare.

Vid bedömningen av din muntliga redovisning kommer läraren att ta hänsyn till:

- hur fullständig, relevant och strukturerad din redovisning är,
- hur väl du beskriver och förklarar tankegångarna bakom din lösning,
- hur väl du använder den matematiska terminologin.

Hur fullständig, relevant och strukturerad din redovisning är

Din redovisning ska innehålla de delar som behövs för att dina tankar ska gå att följa och förstå. Det du säger bör komma i lämplig ordning och inte innehålla någonting onödigt. Den som lyssnar ska förstå hur beräkningar, beskrivningar, förklaringar och slutsatser hänger ihop med varandra.

Hur väl du beskriver och förklarar tankegångarna bakom din lösning

Din redovisning bör innehålla både beskrivningar och förklaringar. Man kan enkelt säga att en beskrivning svarar på frågan *hur* och en förklaring svarar på frågan *varför*. Du beskriver något när du till exempel berättar *hur* du har gjort en beräkning. Du förklarar något när du motiverar *varför* du till exempel kunde använda en viss formel.

Hur väl du använder den matematiska terminologin

När du redovisar bör du använda ett språk som innehåller matematiska termer, uttryckssätt och symboler som är lämpliga utifrån den uppgift du har löst.

Matematiska termer är ord som till exempel ”exponent”, ”funktion” och ”graf”.

Ett exempel på ett matematiskt uttryckssätt är att x^2 utläses ”x upphöjt till 2” eller ”x i kvadrat”.

Några exempel på matematiska symboler är π och $f(x)$, vilka utläses ”pi” och ”f av x”.

Uppgift 1. Lösning av ekvationssystem


Namn: _____

Vid bedömning av din muntliga redovisning kommer läraren att ta hänsyn till:

- hur fullständig, relevant och strukturerad din redovisning är,
- hur väl du beskriver och förklarar tankegångarna bakom din lösning,
- hur väl du använder den matematiska terminologin.

a) Lös ekvationssystemet $\begin{cases} 2x - y = 8 \\ 3x + 2y = 5 \end{cases}$ algebraiskt.

b) Lös ekvationssystemet $\begin{cases} x + y = 9 \\ 2y - 4x = -6 \end{cases}$ grafiskt.



Uppgift 2. Lösning av andragradsekvationer


Namn: _____

Vid bedömning av din muntliga redovisning kommer läraren att ta hänsyn till:

- hur fullständig, relevant och strukturerad din redovisning är,
- hur väl du beskriver och förklarar tankegångarna bakom din lösning,
- hur väl du använder den matematiska terminologin.

a) Lös ekvationen $x^2 - 4x = 5$ algebraiskt.

b) Lös ekvationen $x^2 - 2x - 8 = 0$ grafiskt.



Uppgift 3. Bestäm linjens ekvation


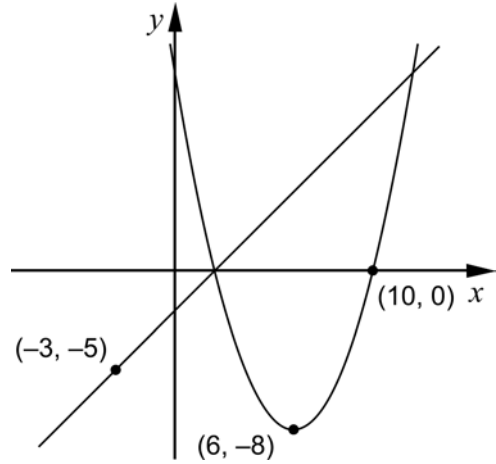
Namn: _____

Vid bedömning av din muntliga redovisning kommer läraren att ta hänsyn till:

- hur fullständig, relevant och strukturerad din redovisning är,
- hur väl du beskriver och förklarar tankegångarna bakom din lösning,
- hur väl du använder den matematiska terminologin.

I figuren visas grafen till en rät linje och grafen till en andragsgradsfunktion som har minsta värdet -8 . Linjen och grafen till andragsgradsfunktionen skär varandra på x -axeln.

Bestäm linjens ekvation.



Uppgift 4. Kaffetemperaturen

Namn: _____


Vid bedömning av din muntliga redovisning kommer läraren att ta hänsyn till:

- hur fullständig, relevant och strukturerad din redovisning är,
- hur väl du beskriver och förklarar tankegångarna bakom din lösning,
- hur väl du använder den matematiska terminologin.

Johan fyller en termos med hett kaffe och placerar den genast utomhus där temperaturen är 0°C . Temperaturen hos kaffet avtar exponentiellt med tiden. I tabellen visas kaffetemperaturen vid några olika tidpunkter. Kaffet anses drickbart så länge dess temperatur inte understiger 55°C .

Tid (h)	Temperatur ($^{\circ}\text{C}$)
0	93
6,0	50

Bestäm hur lång tid efter att Johan ställt ut termoserna som kaffet är drickbart.



Bedömningsmatris för bedömning av muntlig kommunikativ förmåga

Kommunikativ förmåga	E	C	A	Max
<p><i>Fullständighet, relevans och struktur</i></p> <p>Hur fullständig, relevant och strukturerad elevens redovisning är</p>	<p>Redovisningen kan sakna något steg eller innehålla något ovidkommande.</p> <p>Det finns en övergripande struktur men redovisningen kan vara bitvis fragmentarisk eller rörig.</p> <p>(1/0/0)</p>		<p>Redovisningen är i huvudsak fullständig och endast relevanta delar ingår.</p> <p>Redovisningen är välstrukturerad.</p> <p>(1/0/1)</p>	(1/0/1)
<p><i>Beskrivningar och förklaringar</i></p> <p>Förekomst av och utförlighet i beskrivningar och förklaringar</p>	<p>Någon förklaring förekommer men tyngdpunkten i redovisningen ligger på beskrivningar.</p> <p>Utförligheten i de beskrivningar och de förklaringar som framförs kan vara begränsad.</p> <p>(1/0/0)</p>		<p>Redovisningen innehåller tillräckligt med utförliga beskrivningar och förklaringar.</p> <p>(1/0/1)</p>	(1/0/1)
<p><i>Matematisk terminologi</i></p> <p>Hur väl eleven använder matematiska termer, symboler och konventioner.</p>	<p>Eleven använder ibland matematisk terminologi med rätt betydelse.</p> <p>(1/0/0)</p>	<p>Eleven använder ofta matematisk terminologi med rätt betydelse och vid lämpliga tillfällen.</p> <p>(1/1/0)</p>	<p>Eleven använder i huvudsak matematisk terminologi med rätt betydelse och vid lämpliga tillfällen.</p> <p>(1/1/1)</p>	(1/1/1)
Summa				(3/1/3)