

Matematik

Delprov B

1b

Elevers namn och klass/grupp

Anvisningar – Delprov B

Provtid	60 minuter för Delprov B.
Hjälpmedel	Tillåtna hjälpmedel på Delprov B är formelblad och linjal.
Uppgifter	Detta delprov består av uppgifter som ska lösas utan digitala verktyg. Svar och lösningar skrivs i provhäftet. På några av uppgifterna krävs redovisning, som redovisas i figur och ruta intill uppgiften. Till övriga uppgifter krävs endast svar. Efter varje uppgift anges maximala antalet poäng som du kan få för ditt svar/din lösning.
Kravgränser	Provet (Delprov A–D) ger totalt högst 83 poäng. Gräns för provbetyget E: Minst 19 poäng. D: Minst 35 poäng varav minst 14 poäng på lägst nivå C. C: Minst 45 poäng varav minst 22 poäng på lägst nivå C. B: Minst 57 poäng varav minst 7 poäng på nivå A. A: Minst 68 poäng varav minst 13 poäng på nivå A.

Namn: _____

Födelsedatum: _____

Program: _____ Klass: _____

Illustrationer: Jens Ahlbom

1. Lös ekvationen $2(3x - 18) = 0$

Svar: $x =$ _____ (1/0/0)

2. En påse maränger som väger 150 g kostar 21 kr.
Vad är priset per kilogram?

Svar: _____ kr (1/0/0)

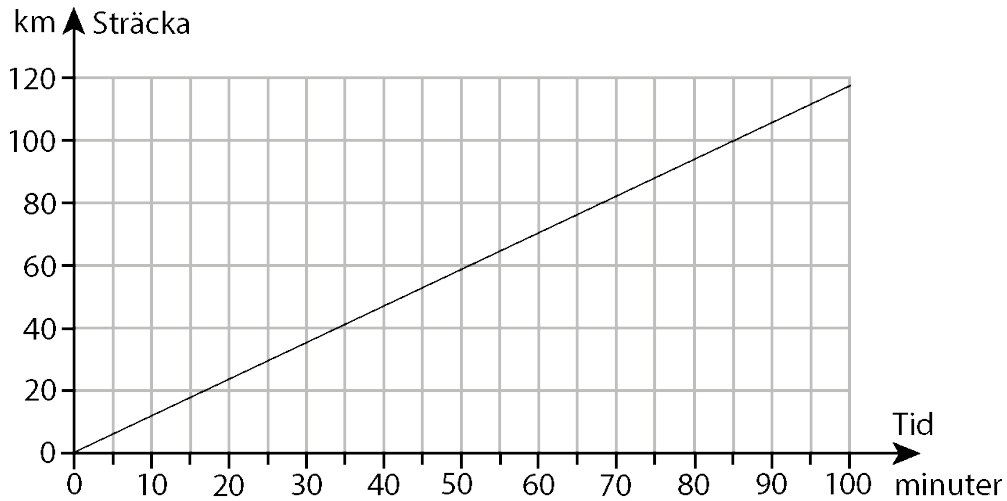


3. Med hur många procent har priserna stigit mellan år 2010 och 2014 enligt indextabellen?

År	2010	2014
KPI (konsumentprisindex)	100	103

Svar: _____ % (1/0/0)

4. Diagrammet visar hur långt man åker på en viss tid med hastigheten 70 km/h.



- a) Rita motsvarande graf i diagrammet för hastigheten 90 km/h. (1/0/0)
- b) När Johan kör till arbetet kör han med medelhastigheten 90 km/h. Det tar ca 40 minuter. Bestäm med hjälp av diagrammet hur mycket längre tid samma körsträcka tar om han istället kör med medelhastigheten 70 km/h. Redovisa din lösning.

Svar: _____ min (1/1/0)

5. Alla jackor i en butik säljs med 40 % rabatt. Du betalar 1 200 kr för en jacka. Hur mycket kostade den före rabatten?



Svar: _____ kr (0/2/0)

6. Ringa in de potenser som har samma värde.

0^5 1^4 2^3 3^2 4^1 5^0

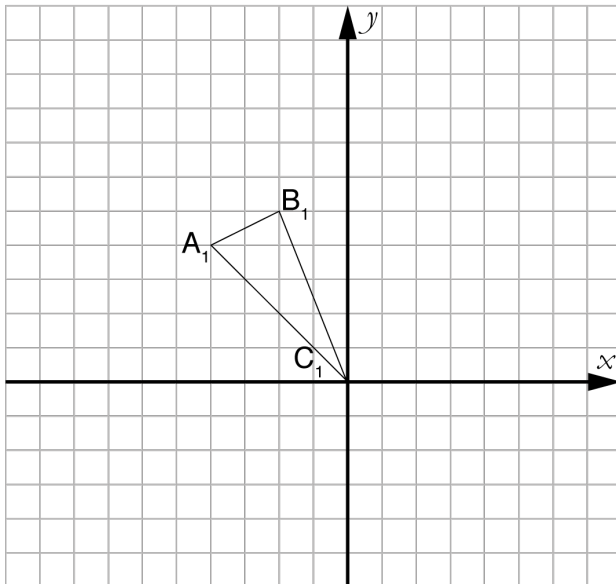
(0/1/0)

7. Vilken förändringsfaktor motsvarar en prisökning med 150 %?

Svar: _____

(0/1/0)

8.



a) Spegla triangeln $A_1B_1C_1$ i y -axeln. Markera den nya triangelns speglade hörn med A_2 , B_2 och C_2 .

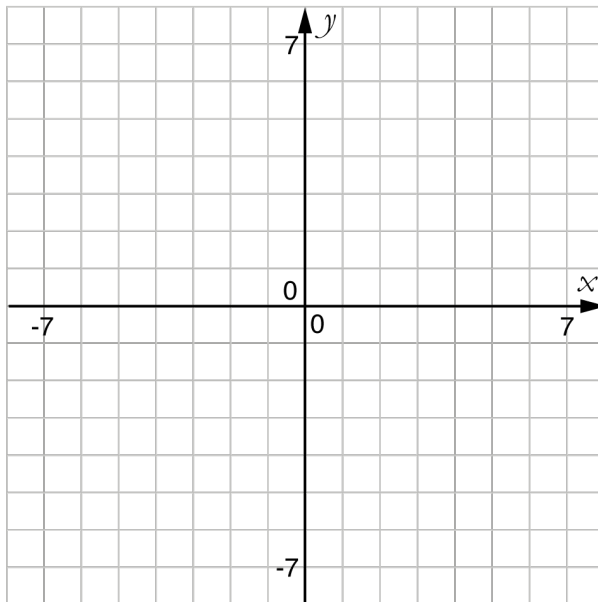
(1/1/0)

b) Låt den speglade triangelns hörn i origo ligga fast. Roter triangeln 90 grader medurs (åt höger). Markera den nya triangelns roterade hörn med A_3 , B_3 och C_3 .

(0/2/0)

9. Rita en möjlig graf till funktionen f i koordinatsystemet nedan. För funktionen f gäller att:

- Definitionsmängden är $-5 \leq x \leq 6$
- $f(-3) = 0$
- Värdomängden är $-2 \leq f(x) \leq 4$



(1/1/1)

10. Följande påståenden är ekvivalenser eller implikationer. Markera alla påståenden som är ekvivalenser med symbolen \Leftrightarrow och påståenden som enbart är implikationer med symbol \Rightarrow eller \Leftarrow .

Heltalet, x , slutar på siffran noll Heltalet, x , är jämnt delbart med två

$y \geq 2$ $y > 2$

$2z + 4 = 6$ $z = 1$

(0/1/1)

11. Ett lag ska spela 130 matcher under en säsong. När de har spelat 80 matcher har de vunnit 48 stycken. Hur många av de 50 matcherna som är kvar måste laget vinna för att andelen vunna matcher ska vara lika stor som efter de första 80 matcherna?

Svar: _____ (0/0/1)

12. Vilket tal ska stå i den tomma rutan i tabellen?

x	xy	xy^2
2	-10	

Svar: $xy^2 =$ _____ (0/0/1)

13. Skriv som en olikhet: a är minst 4 mer än b .

Svar: _____ (0/0/1)

14. Funktionen $f(x) = 2x - 3$ är given.

a) Bestäm $f(-2)$

Svar: _____ (1/0/0)

b) Förenkla $f(a + 1) - f(a)$
Redovisa förenklingen.

(0/0/2)

Resultatredovisning – Sammanfattning Elev

Nationellt kursprov i matematik 1b ht 2015

Namn:	Provbetyg:
-------	------------

	E-poäng		C-poäng		A-poäng		Totalt	
	Din poäng	Max-poäng	Din poäng	Max-poäng	Din poäng	Max-poäng	Din poäng	Max-poäng
Delprov A		4		4		4		12
Delprov B		8		10		7		25
Delprov C		2		3		3		8
Delprov D		14		18		6		38
Totalt		28		35		20		83

Delprov A	E	C	A	Poäng	Motivering
Metod och genomförande	+E _B +E _B	+C _M	+A _M		
Resonemang	+E _R	+C _R	+A _R		
	+E _R	+C _R	+A _R		
Kommunikation		+C _K	+A _K		
Summa	4	4	4		

Delprov C	E	C	A	Poäng	Motivering
Metod och genomförande	+E _{PL} +E _P	+C _P	+A _{PL}		
Resonemang		+C _R	+A _R		
Kommunikation		+C _K	+A _K		
Summa	2	3	3		

Kravgränser

Gräns för provbetyget

E: Minst 19 poäng.

D: Minst 35 poäng varav minst 14 poäng på lägst nivå C.

C: Minst 45 poäng varav minst 22 poäng på lägst nivå C.

B: Minst 57 poäng varav minst 7 poäng på nivå A.

A: Minst 68 poäng varav minst 13 poäng på nivå A.

Provbetyg

Provbetyget sammanfattar de kunskaper eleven visat på det nationella provet. Kursbetyget behöver inte vara detsamma som provbetyget eftersom kursbetyget grundar sig på alla kunskaper eleven visat under kursen.

Kommentarer:

Blanketten finns att hämta på www.su.se/primgruppen