

# Matematik

Delprov D

ÅRSKURS


3

---

Elevens namn och klass/grupp




1. Nova och Troj åker buss till djuraffären.  
De börjar sin bussresa klockan 09.00.  
Bussresan tar 1 timme och 20 minuter.  
Hur mycket är klockan när de går av bussen?



9.00

Svar: \_\_\_\_\_

2. Nova matar djuren. Hon börjar klockan 11.30  
och är färdig efter en kvart.  
Hur mycket är klockan då?



11.30

Svar: \_\_\_\_\_

3. Victor är i djuraffären och ska först välja några fiskar  
och sedan betala.  
Ungefär hur lång tid kan det ta?  
*Ringa in ditt svar.*

10 sekunder

20 minuter

10 timmar

4. Sara står i kö och det är två personer före som ska handla.  
Ungefär hur lång tid får Sara vänta?  
*Ringa in ditt svar.*

5 sekunder

5 minuter

5 timmar

5. Fyll i de tal som saknas.

Ett år är \_\_\_\_\_ månader.

En vecka är \_\_\_\_\_ dagar.

En timme är \_\_\_\_\_ minuter.



6. a) För precis två månader sedan fyllde Nova år.  
Vilken månad fyller Nova år?


Svar: \_\_\_\_\_

b) Om precis tre månader fyller Troj år.  
Vilken månad fyller Troj år?

Svar: \_\_\_\_\_



7.



Glas A

Glas B

Det är saft i två glas.

Ett påstående är sant. Sätt ett kryss vid det påståendet.

Det är lika mycket saft i båda glasen.

Det är mest saft i glas A.

Det är mest saft i glas B.

*Förklara varför.*

8. Skriv den enhet (dl eller liter) som passar.

En mugg            2 \_\_\_\_\_

En kanna saft    1 \_\_\_\_\_

En stor hink      10 \_\_\_\_\_

En burk läsk      3 \_\_\_\_\_

9. I en påse är det 3 deciliter (dl) fågelfrö.

a) Hur många deciliter är det i 4 påsar fågelfrö?



Svar: \_\_\_\_\_

b) Ungefär hur många liter är det?  
*Ringa in ditt svar.*


1 liter

2 liter

4 liter

12 liter

10.



Akvariet rymmer 200 liter vatten.  
Nova har en hink som rymmer 10 liter.  
Hur många hinkar med vatten måste hon  
hälla i för att akvariet ska bli fullt?  
*Visa hur du löser uppgiften och skriv svar.*



Svar: \_\_\_\_\_



